


Nome: _____ Data: ____/____/____
 Escola: _____ Turma: _____

1. Observa a figura com bolas de Natal.



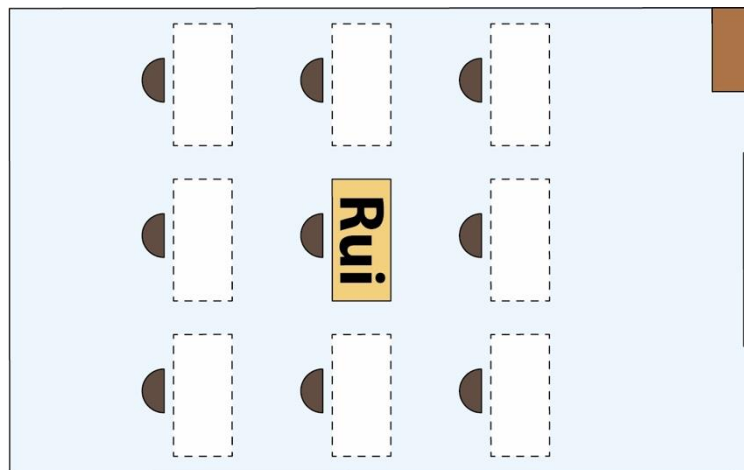
a) Pinta da mesma cor os pares de bolas cuja soma é 100.

b) Dos números das bolas, escolhe:

- um número par. _____

- um número ímpar. _____

2. Observa a planta da sala de aula do Rui, onde está marcado o seu lugar.




Descobre o lugar de cada um dos colegas do Rui e pinta a mesa com a cor respetiva:

- vermelho O Tó está na mesa à direita do Rui.
- verde A Ana está na mesa que fica à frente do Rui.
- azul O Pedro está na mesa atrás do Rui.
- castanho A Luísa está na mesa à esquerda do Rui.
- cor de laranja A Rita está na primeira mesa que fica na fila à direita do Rui.

3. Observa os ábacos.

a) Completa como no exemplo.



1	2	4
---	---	---

--	--	--

--	--	--


--	--	--

1	0	0
	2	0
		4

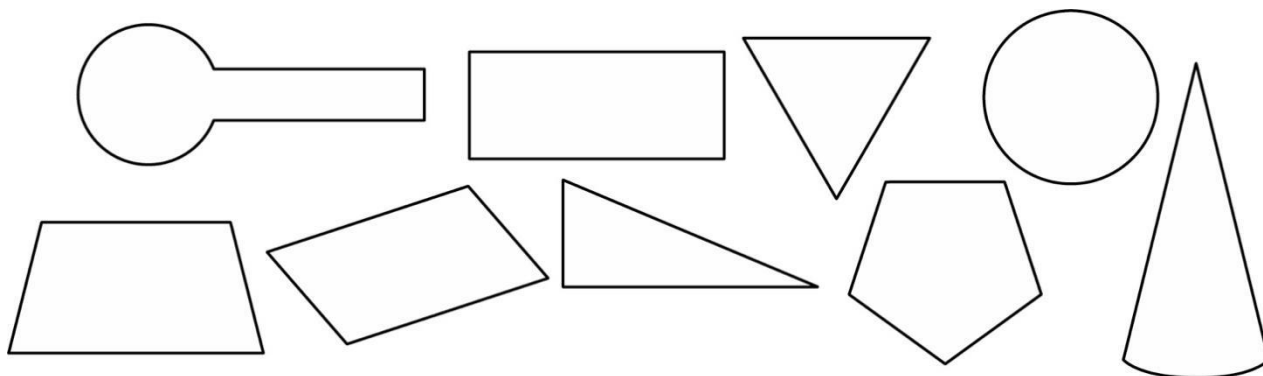
b) Escreve o maior dos números e a sua leitura de duas maneiras diferentes.

c) Escreve estes números por ordem crescente.

$$\square < \square < \square < \square$$



4. Observa as seguintes figuras:



a) Pinta de amarelo as figuras que não são polígonos.

b) Pinta de azul os triângulos e de vermelho os quadriláteros.

5. O Rui tem um aquário com 7 peixinhos. O seu amigo Pedro também tem um aquário mas com o dobro dos peixes do aquário do Rui.


Quantos peixes há nos dois aquários? Explica como pensaste.

R.: Nos dois aquários há _____ peixes.

6. Observa o registo das árvores de Natal vendidas na semana antes do Natal no mercado da Dona Lurdes.

	Natural pequena	Natural média	Natural grande	Artificial pequena	Artificial média	Artificial grande
Tipo de árvores vendidas	3	6	7	4	8	9

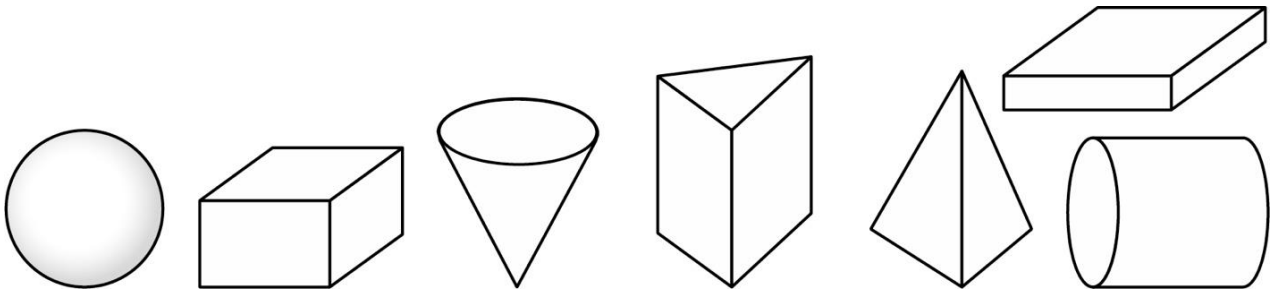
a) Completa o gráfico.




b) Quantas árvores se venderam nesta semana?

R.: _____

7. Observa estes sólidos e pinta os que só têm superfícies planas.



8. Observa a figura.



- a) Em que lugar está a menina de tranças? _____
- b) Pinta de amarelo a camisola do atleta que está em 13.º lugar.
- c) Rodeia o atleta que está em quinto lugar.
- d) Em que lugar está o atleta que caiu? _____

9. Compõe os números e escreve como se leem.

1C 2D 9U → _____

2C 5D 3U → _____

4C 1D 8U → _____

10. A turma do 2.º ano elaborou este diagrama que representa todos os alunos dessa turma.

	Praticam desporto	Não praticam desporto
Rapazes	11	3
Raparigas	6	4

- a) Quantos alunos praticam desporto? R.: _____
- b) A turma tem mais rapazes ou raparigas? R.: _____
- c) O que significa o número 4 indicado no diagrama?

R.: _____

11. O Rui tem guardados 15 euros e o seu irmão tem mais 5 euros do que ele. Eles querem comprar um jogo que custa 27 euros. Será que o dinheiro dos dois chega? Explica como pensaste.



R.: _____