




Ficheiro de



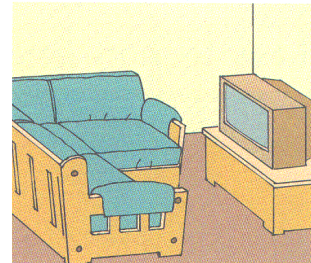



Estudo do Meio

1. Escreve o nome das partes da casa.

• Telhado • Janela • Varanda • Parede • Porta



2. Observa e liga correctamente.



1. Completa as frases.


- em cima
- debaixo
- atrás
- ao lado

O livro está _____ da mesa.


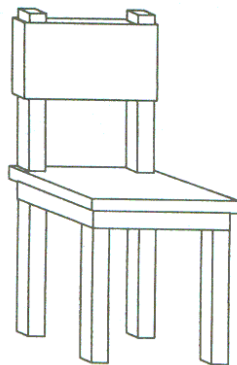
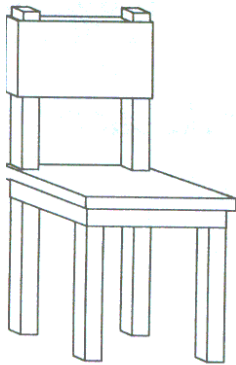
A menina está _____ da mesa.

A bola está _____ da mesa.

A mochila está _____ da mesa.



2 – Desenha três lápis em cima da primeira cadeira. E uma borracha por baixo da segunda cadeira. Dentro do aquário, desenha dois peixes.



3. Liga correctamente:

• O carro está ao lado do menino •

• O chapéu está na cabeça da menina •



1. Faz a ligação correctamente das *Estações do Ano*.

Primavera •

Verão •

Outono •

Inverno •



2. Faz ligação correcta dos *Acontecimentos mais Importantes do Ano*.

Natal •

Páscoa •

Carnaval •

Férias de
Verão •



1. Liga correctamente as imagens aos nomes dos *Contentores do Ecoponto*.

O Embalão

(a sua cor é

O Vidrão

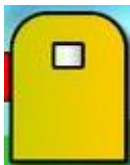
(a sua cor é

O Papelão

(a sua cor é



2. Liga correctamente qual é os *lixos* que devemos deixar em cada contentor do *Ecoponto*.



Ficha de Estudo do Meio – 2º ano

1. Assinala correctamente as várias partes que existem no teu **Corpo**.

A

Mão

B

Cabelo

C

Pé

E

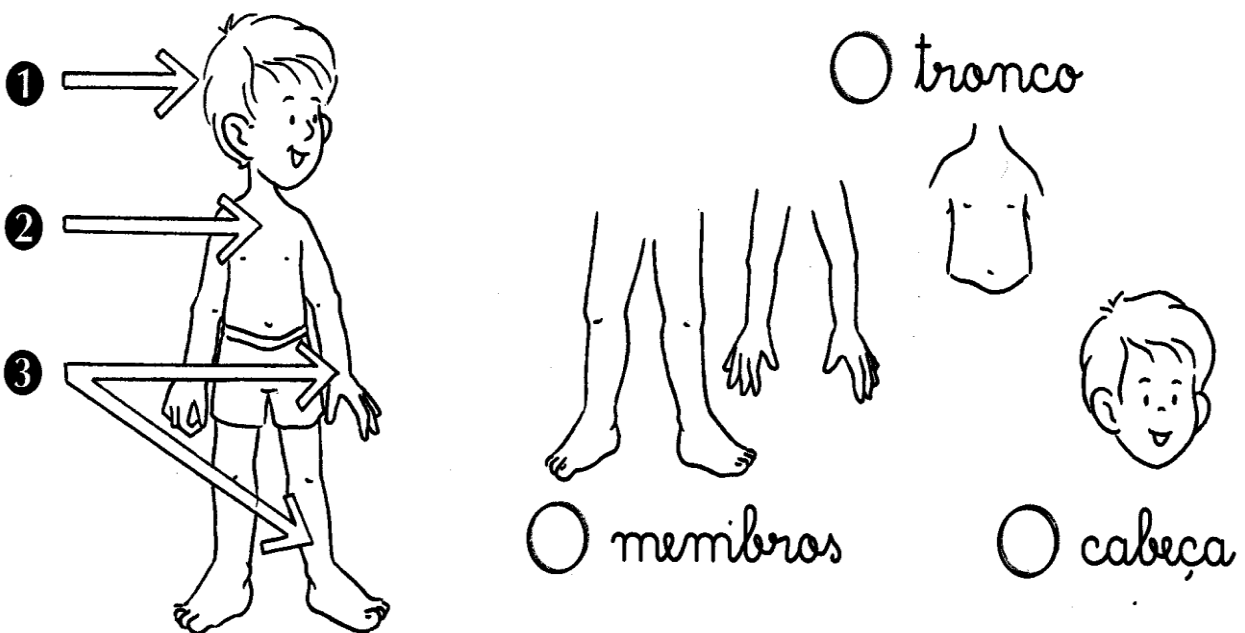
Braço

F

Perna



2. Numera de acordo com a figura.



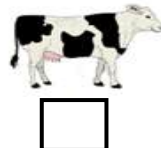


1. Faz a ligação correcta dos *Animais Selvagens* (os animais que não podemos ter em casa) e dos *Animais Domésticos* (os animais que podemos ter em casa).

Animal Selvagem
(não podemos ter em casa)

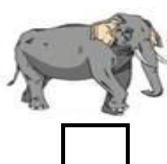

Animal Doméstico
(podemos ter em casa)




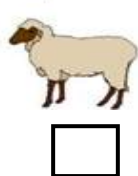

2. Assinala com um **X** os animais que *Vivem na Terra*



3. Assinala com um **X** os animais que *Voam*.





4. Assinala com um **X** os animais que *Vivem na Água*.




O cuidado que devemos ter
com os animais, com as
plantas e com o nosso corpo.

Ficha de Estudo do Meio – 2º ano




1. Assinala com um X as imagens de como devemos cuidar dos animais.



2. Assinala com um X as imagens de como devemos tratar as plantas.



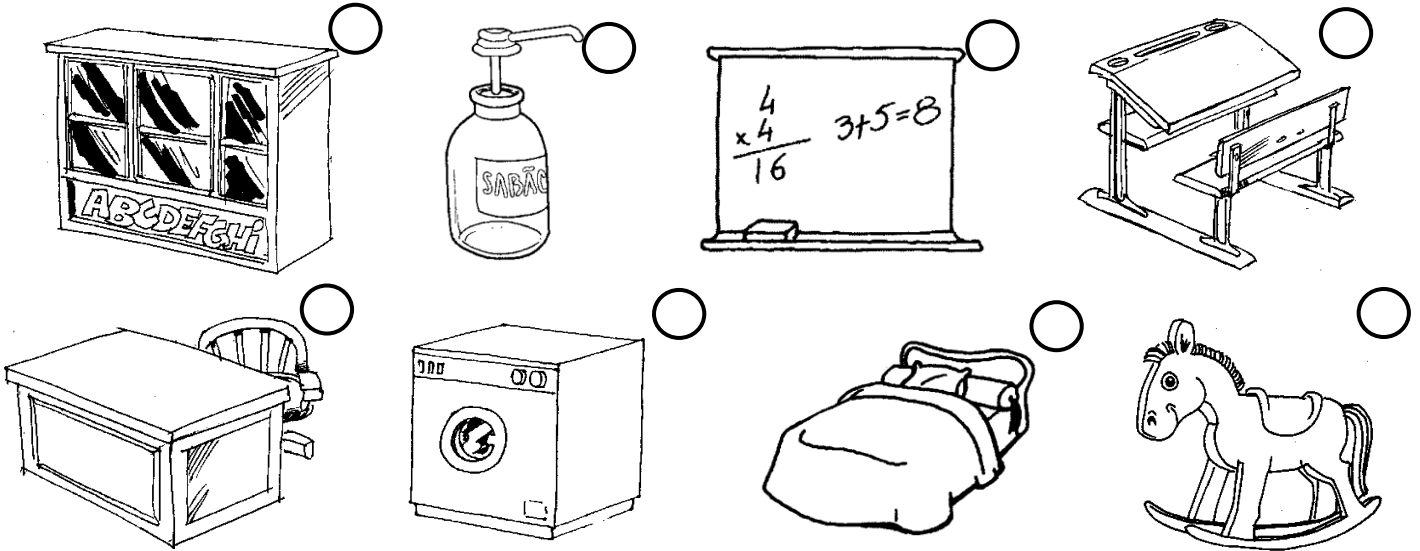
3. Assinala com umas X as posições correctas.



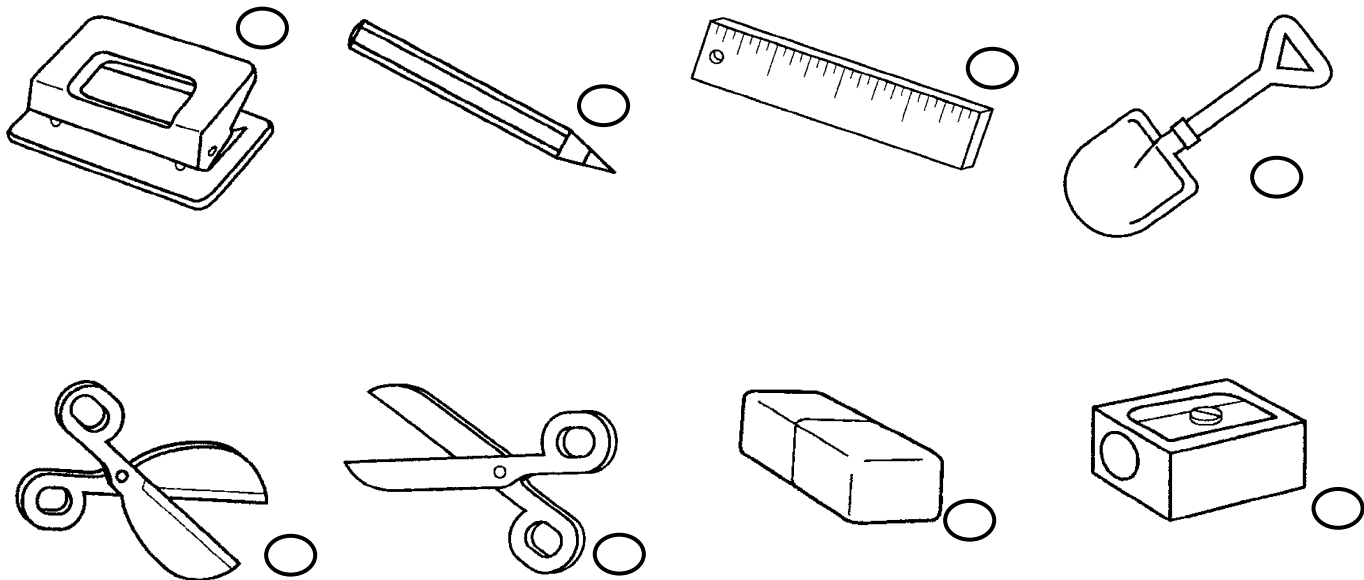
Os objectos da sala de aula.

Ficha de Estudo do Meio – 2º ano

1. Assinala com um X os objectos que pertencem a uma sala de aulas.



2. Assinala com um X as ferramentas que usas na escola.



1. Liga correctamente os **Sentidos** aos **Órgãos dos sentidos**



Tacto



Olhos



Olfacto



Nariz



Paladar



Mão



Audição



Boca







Visão




Ouvido

1. Assinala com um X as imagens correctas.


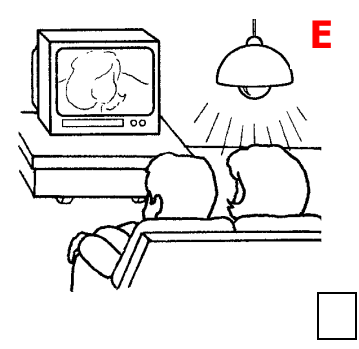
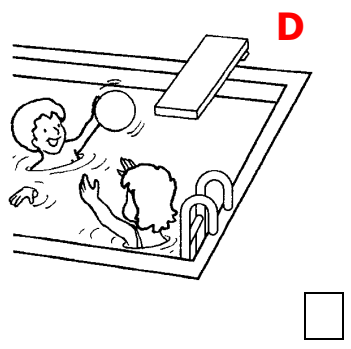

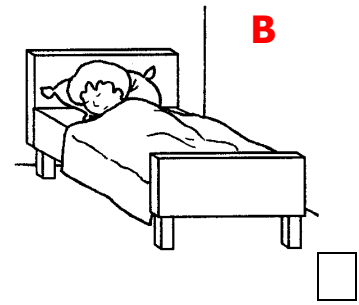



2. Faz a ligação correcta dos Sinais de Trânsito

- Proibido ●
- Obrigatório ●
- Perigo ●
- Informação ●



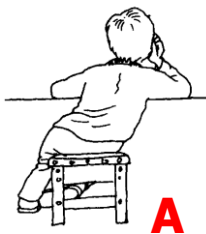
1. Assinala com um círculo o que é feito **de dia**. Marca com X o que é feito **de noite**.



2. Marca com X os dias em que vais à escola e com • os dias em que não vais.

	X	•
Segunda-feira		
Terça-feira		
Quarta-feira		
Quinta-feira		
Sexta-feira		
Sábado		
Domingo		

1. Assinala com um X os cuidados correctos com a saúde do nosso corpo.



A



B



C



D



E



2. Liga os cuidados que devemos ter com a nossa saúde certos às imagens.

Antes de comer temos de lavar

Só tomamos banho quando

Devemos usar roupa limpa e

A



B



C



Se gostarmos, podemos usar a

Só devemos lavar as mãos

Devemos tomar banho várias

2. Assinala com **V** (Verdadeiro) ou **F** (Falso) as seguintes afirmações.

1. Devemos ouvir música muito alta

2. Podemos ler em sítios mal iluminados

3. Devemos lavar as mãos antes de comer




Os Animais

ESTUDO DO MEIO - 2º ANO

1- Dos animais que vês diz quais são:

- A** – Selvagens;
- B** – Domésticos;



2- Escreve nomes de animais que:

<u>Voam</u>	<u>Vivem na Terra</u>	<u>Vivem na água</u>

3- Completa:

<u>Animais</u>	<u>Onde vive</u>	<u>Como é coberto o seu corpo</u>	<u>Como se desloca</u>	<u>O que come</u>
Cavalo				
Pescada				
Galo				
Águia				
Vaca				
Cão				

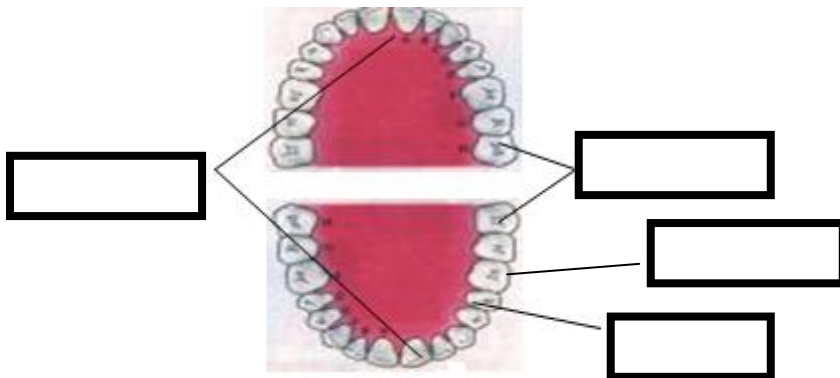
1. Liga correctamente:

Dentição de leite ●

Dentição definitiva ●



2. Legenda correctamente a imagem.



3. Completa as frases.

- Os **Dentes de leite** são _____ e nascem por volta dos _____.
- A **Dentição definitiva** nasce entre _____. A dentição definitiva é formada por _____.
- Para que os micróbios não estragarem os nossos dentes devemos _____ todos os dias.



20

6 Meses


Lavá-los

6 e os 21


Ficha de Estudo do Meio -2º ano

1. Consulta a lista e completa.


Obrigado




A




B




C



D









E



F

- | | | |
|----------------|---------|-----------|
| Linguagem oral | os sons | os gestos |
| O telefone | a carta | os sinais |

2. Relaciona correctamente.

A		D	
B		E	
C		F	

• **Comunicação pessoal** •

• **Comunicação social** •

Ficha de Estudo do Meio -2º ano

1. Completa as frases com os nomes dos meios de comunicação.

Jornal	carta	telefone	televisão
--------	-------	----------	-----------

- A Lúcia fala todos os dias com os seus avós por _____.
- De vez em quando, escreve-lhes uma _____.
- A Lúcia consulta no _____ o horário dos programas de _____.

2. Marca com um X os meios de comunicação social.

_____ A televisão _____ a rádio _____ as cartas
_____ Os jornais _____ o telefone _____ as revistas

3. Escrevo V (verdadeiro) ou F (falso).

1. _____ Nos correios compramos jornais e revistas.
2. _____ Por fax mandamos documentos escritos.
3. _____ O telefone é um meio de comunicação social.

1. O ano tem _____ meses que são _____,
_____, _____,
_____, _____,
_____, _____.

2. Os dias da semana são _____ e chamam-se:
_____; _____; _____;
_____; _____; _____;
_____.

3. Qual é a tua estação do ano preferida? Escreve porquê.

4. Escreve V (verdadeiro) ou F (falso)

1. A Primavera começa em Janeiro. _____

2. O Outono é em Agosto. _____

3. No Verão os dias são mais frios. _____


4. No Natal vamos para a praia tomar banho e bronzear-nos. _____

5. No Outono as folhas caem das árvores. _____

6. Os dias são mais pequenos e frios durante o Inverno _____

7. A neve cai sempre durante o Verão e a Primavera. _____


8. Na Primavera as andorinhas e outros pássaros vão para os países mais quentes. _____






Os **olhos** são os órgãos do sentido da _____


1. Com os **olhos** podemos...




ler



ver _____



ver _____




ver-nos no _____

2. Os **olhos** ajudam-nos a:



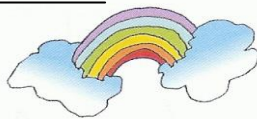
A _____




C _____



E _____



B _____



D _____



F _____

o lugar

as formas

o tamanho

os amigos

a distância

2. Completa ligando apenas ao sentido estudado.

chilreio dos pássaros		olfacto
aroma de uma flor		audição
gosto de uma cereja		paladar
beleza de uma paisagem		Visão
dureza de uma pedra		tacto



O **nariz** é o órgão do sentido do _____

Com o **nariz** podemos distinguir os cheiros

Agradável

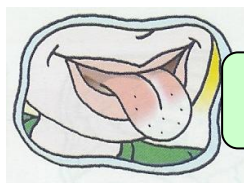
Desagradável



Que cheiro







Que cheiro



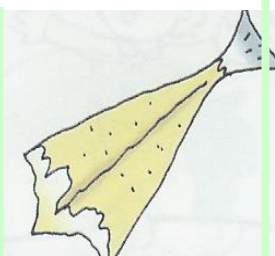


A **língua** é o órgão do sentido do _____ ou _____

Com a língua distinguimos os sabores dos alimentos e conhecemos os que são:


Doces, ácido, salgados, amargos e picantes

Escreve debaixo de cada gravura o sabor que o alimento tem.




Ficha de Estudo do Meio – 2º ano


1. Indica se o procedimento é **correcto** ou **incorrecto** e explica porquê.




A



B



C



D

3. Escreve **dois cuidados** que deves ter antes de atravessar a rua:

1- _____

2- _____

Ficha de Estudo do Meio – 2º ano

1. Completa as legendas das gravuras.



O 1º mês do ano é _____.
Tem _____ dias.



O 2º mês é _____.
Tem _____ ou _____ dias.



O 3º mês é _____.
Tem _____ dias.



O 4º mês é _____.
Tem _____ dias.



O 5º mês é _____.
Tem _____ dias.



O 6º mês é _____.
Tem _____ dias.




O 7º mês é _____.
Tem _____ dias.



O 8º mês é _____.
Tem _____ dias.



O 9º mês é _____.
Tem _____ dias.



O 10º mês é _____.
Tem _____ dias.



O 11º mês é _____.
Tem _____ dias.



O 12º mês é _____.
Tem _____ dias.

Ficha de Estudo do Meio – 2º ano

1. Escreve, ordenadamente, os nomes dos dias da semana.

1. Completa:

Se hoje é terça-feira, amanhã será _____.

Antes de domingo é sempre _____.

O primeiro mês do ano é _____ e o último é _____.

O meu dia da semana preferido é _____ porque




Ficha de Estudo do Meio – 2º ano

1. Observa as gravuras e faz a legenda de cada um dos tipos de transporte.









Avião
Navio
Camião
Carroça
Bicicleta
Autocarro
Carro
Helicóptero
Mota
Canoa

2. Indicar nomes de meios de transporte:

Aéreos


Marítimos

Aquáticos

3. Observa o esquema e liga entre si as etiquetas correspondentes.

Transportes Públicos ●
Transportes Privados ●

- Comboio
- Carro
- Bicicleta
- Autocarro



1- Observa as figuras e completa as lacunas

A




Eu sou _____
Trabalho no _____
Pesco o _____

B



Eu sou _____
Trabalho no _____
Cultivo _____

C



Eu sou _____
Trabalho na _____
Arranjo os _____

2 – Lê as informações e completa as frases.


1. A pessoa que trata os doentes é o _____
2. A pessoa que faz o pão é o _____
3. A pessoa que apaga os fogos é o _____
4. A pessoa que prende os ladrões é o _____
5. A pessoa que nos ensina na escola é _____
6. A pessoa que entrega as cartas é o _____
7. A pessoa que faz a comida nos restaurantes é o _____
8. A pessoa que conduz o autocarro é o _____
9. A pessoa que diz notícias é o _____
10. A pessoa que arranja os sapatos é o _____




*Ficheiro de
Matemática*

Ficha de Matemática – 2º ano


1. Contorna metade das árvores.



2. Observa as gravuras e desenha.



Metade dos frangos



Metade das maçãs

--	--

3. Calcula.

$$\frac{1}{2} \times 8 =$$


$$\frac{1}{2} \times 14 =$$

$$\frac{1}{2} \times 10 =$$


$$\frac{1}{2} \times 20 =$$

Ficha de Matemática – 2º ano

1. Divide os conjuntos para encontrares a metade – $\frac{1}{2}$.



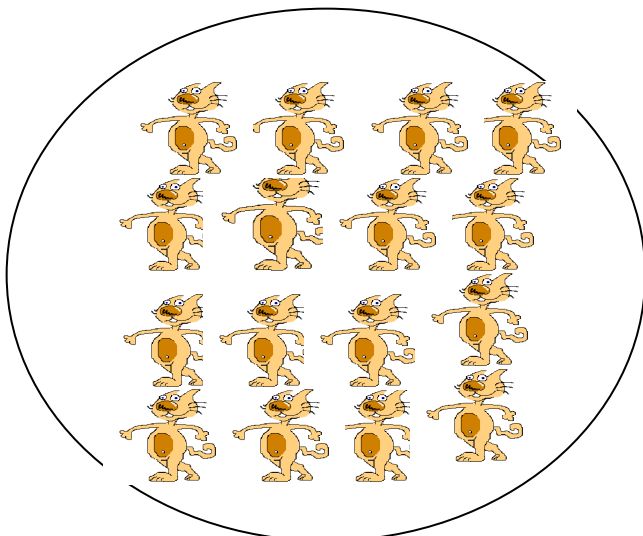
Metade de _____ é _____.



Metade de _____ é _____.



Metade de _____ é _____.



Metade de _____ é _____.

Ficha de Matemática – 2º ano

1. Calcula.

Dobro		Metade
	2	
	4	
	6	
	10	

2. Completa conforme o exemplo.

O **dobro** de 4 são → $2 \times 4 = 8$ (oito)

Metade de 4 são → $\frac{1}{2} \times 4 =$ _____ - _____

O **dobro** de 16 são → _____ x _____ = _____ - _____

Metade de 16 são → _____ x _____ = _____ - _____

3. Calcula.

$2 \times 2 =$

$2 \times 3 =$

$2 \times 4 =$

$2 \times 5 =$

$2 \times 6 =$

$2 \times 8 =$

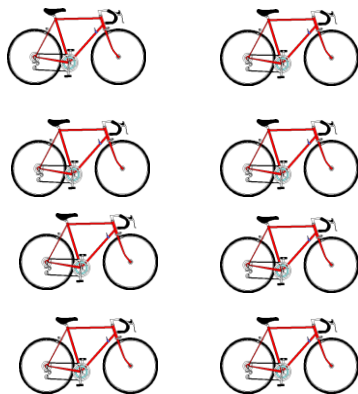
$\frac{1}{2} \times 8 =$

$\frac{1}{2} \times 10 =$

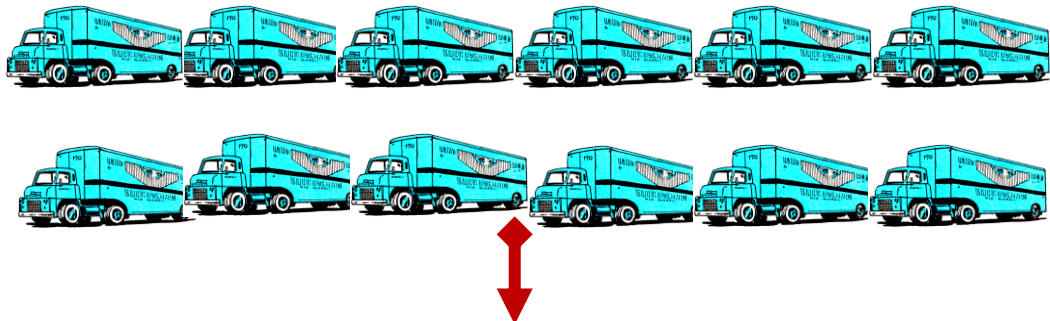
$\frac{1}{2} \times 30 =$

Ficha de Matemática – 2º ano

1. Divide os conjuntos em 4 partes iguais para encontrares a quarta parte $\left(\frac{1}{4}\right)$.



↔ A quarta parte de _____ é



A quarta parte de _____ é

2. Completa.

Quarta parte		Quádruplo
	4	
	8	
	12	
	16	
	20	

3. Calcula:

$$\frac{1}{4} \times 8 =$$

$$\frac{1}{4} \times 16 =$$

$$\frac{1}{4} \times 20 =$$

$$\frac{1}{4} \times 40 =$$

$$4 \times 2 =$$

$$4 \times 4 =$$

$$4 \times 8 =$$

$$4 \times 10 =$$


1. Divide os conjuntos em 3 partes iguais para encontrares a terça parte $\frac{1}{3}$



→ A terça parte de _____ é _____.



→ A terça parte de _____ é _____.



→ A terça parte de _____ é _____.

2. Completa a tabela

Triplo		Terça parte
	6	
	18	
	21	
	30	

2. Calcula:

$$\frac{1}{3} \times 3 =$$

$$\frac{1}{3} \times 15 =$$

$$\frac{1}{3} \times 18 =$$

$$\frac{1}{3} \times 21 =$$

$$3 \times 2 =$$


$$3 \times 4 =$$

$$3 \times 8 =$$

$$3 \times 10 =$$

1. Escreve por extenso:

- 1º _____
- 2º _____
- 3º _____
- 4º _____
- 5º _____
- 6º _____
- 7º _____
- 8º _____
- 9º _____
- 10º _____



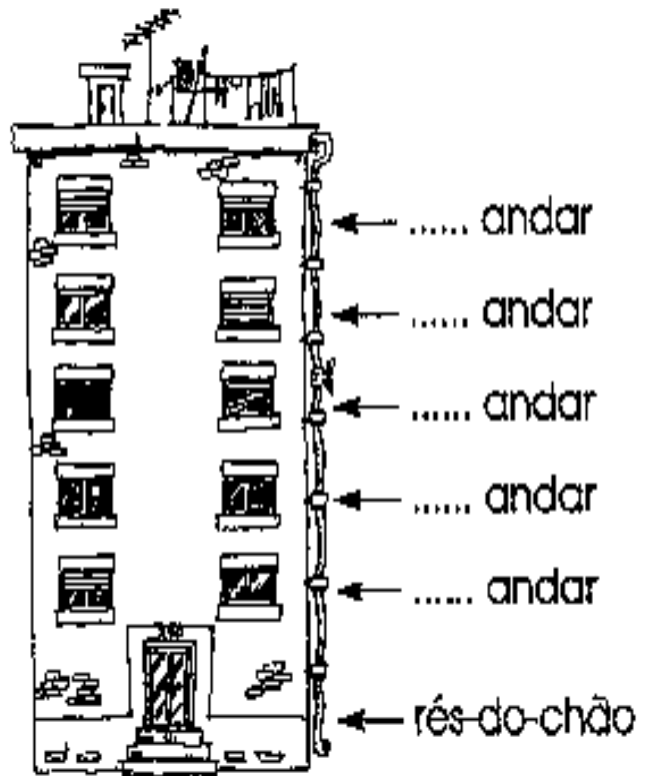
2. Completa adequadamente:

- Antes do terceiro está o _____.
- Depois do sétimo vem o _____.
- A seguir ao nono vem o _____.



1. Completa:

Este prédio tem rés-do-chão e _____ andares.



2. Coloca por **ordem decrescente**:

63 - 75 - 90 - 1 - 40 - 21 - 74 - 5 - 31 - 45 - 58 - 86 - 19 - 12 - 69

3. Coloca por **ordem crescente**:

23 - 43 - 12 - 54 - 19 - 33 - 89 - 40 - 2 - 77 - 9 - 63 - 90 - 86 - 70

1. O programa favorito do Tiago demora 20 minutos e do João metade do tempo.

Quanto tempo demora o programa do João?



R: _____

2. A Mãe da Inês comprou uma dúzia de pêssegos. Ao almoço, a família comeu metade dos pêssegos.

Quantos sobraram?

R: _____

3. Num campeonato de futebol, a equipa vencedora obteve 80 pontos. A equipa que ficou em último lugar só conseguiu alcançar metade dos pontos do vencedor. Quantos pontos totalizou esta equipa?

R : _____



1. A Catarina comprou 8 laranjas. A Mariana comprou o triplo das laranjas da Catarina e o Rodrigo comprou metade das laranjas da Catarina.

a) Quantas laranjas comprou:

- A Mariana? _____
- O Rodrigo? _____



2. O Ruca tem 8 anos;

- A mãe do Ruca tem o quádruplo da sua idade.
- A irmã do Ruca tem metade da sua idade.
- O primo do Ruca tem o dobro da sua idade.
- A sua avó tem o quádruplo da idade do primo do Ruca.



a) Quantos anos tem a mãe do Ruca?

R: _____

b) Quantos anos tem o primo do Ruca?

R: _____

c) Qual é a idade da irmã do Ruca?

R: _____

d) Qual a idade da avó do Ruca?

R: _____



Resolver Problemas – Tabela de Dupla Entrada

1. A Maria Inês faz anos no dia 22 de Março. Ela juntamente com a mãe quer organizar a festa de aniversário e começar a mandar os convites aos convidados. De repente surge um problema, a Maria Inês não sabe em que dia da semana é o seu aniversário. Ajuda a Maria Inês a descobrir.

Março

R: _____

DOM	SEG	TER	QUA	QUI	SEX	SAB
	1	2	3	4	5	6
7	8	9	10	11	12	13
14	15	16	17	18	19	20
21	22	23	24	25	26	27
28	29	30	31			

2. A mãe da Maria Inês faz anos 1 semana depois. Que dia do mês e da semana é?

R: _____

3. Responde correctamente às seguintes questões:



3.1. Quantos fins-de-semana existem em Março?

3.2 Vai ao calendário da tua sala e verifica em que dia do mês e da semana é o teu aniversário.






Ficha de Matemática – 2º ano


1. Completa as tabelas:

	Metade	Dobro
		
		

	Terça parte	Triplo
		
		




	Quarta parte	Quádruplo
		
		

	Metade	Terça parte	Quarta parte
			
24			

	Dobro	Triplo	Quádruplo
			
8			

A metade; o dobro;
a terça parte; o triplo;
a quarta parte
e o quádruplo;

1. Pinta:

Metade	A terça parte	A quarta parte
		

2. Completa o quadro.

	Dobro	Metade	Quádruplo	Quarta parte
4				
8				
12				

3. Completa.

LINGUAGEM CORRENTE	LINGUAGEM MATEMÁTICA	CÁLCULO
O dobro de 9.		
	3×15	
A terça parte de 6		
	$\frac{1}{2}$ de 10	
	4×20	

1. Resolver as adições correctamente.





7 + 3


10 + 5

8 + 8

10 +

2. Completa a tabela.

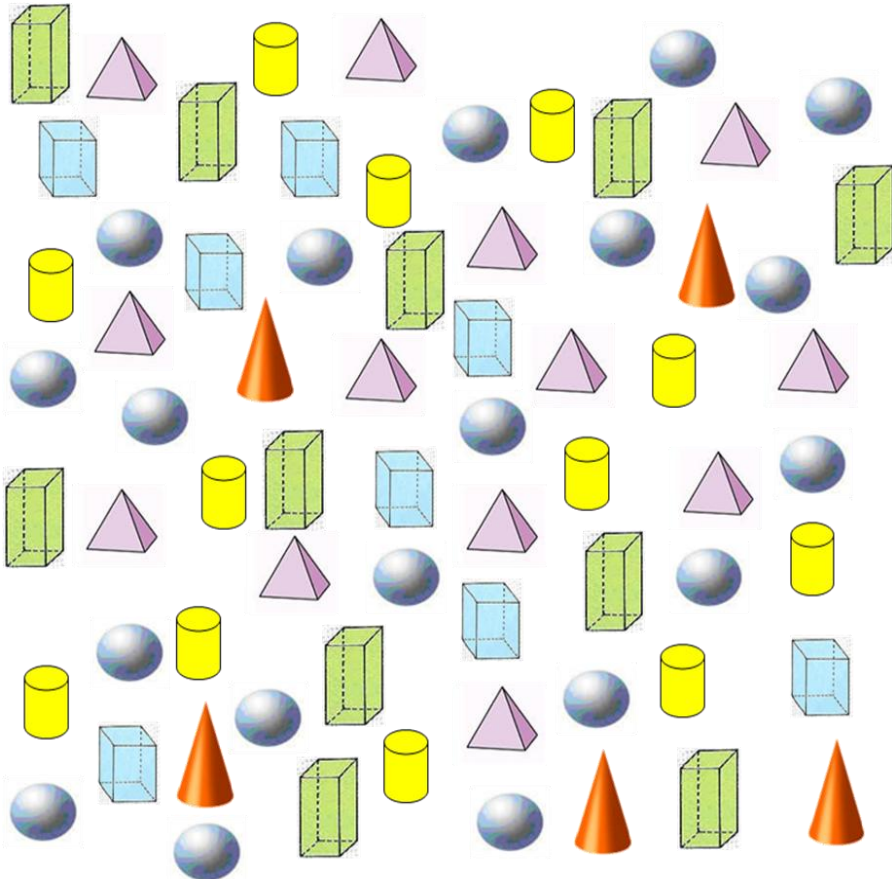
	
	
	
	

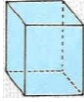







Contagem de sólidos

Ficha de Matemática - 2º

1. Completa a tabela



2. Liga correctamente os Sólidos Geométricos:

Esfera ●

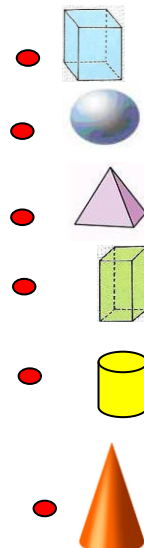
Pirâmide ●

Cone ●


Cilindro ●

Cubo ●


Paralelepípedo ●



1. Conta e completa:



2. Pinta o número de bolas indicado



4

2

5

3

3. Efectua.

$3 + 3 = \underline{\quad}$

$5 + 3 = \underline{\quad}$

$1 + 3 = \underline{\quad}$

$1 + 2 = \underline{\quad}$

**Os sinais: maior,
menor ou igual e a
ordem crescente e
decrescente**

1. Compara utilizando os sinais $<$, $>$ ou $=$

3 4

9 1

6 5

5 10

10 10

4 3

8 3

10 3

7 7

9 9

8 3

7 8

7 3

7 3

10 9

2. Escreve os números:

- Por ordem crescente (do mais pequeno ao maior)

- Por ordem decrescente (do maior ao mais pequeno)

10
4
3
8
2
6
9
1
5
7